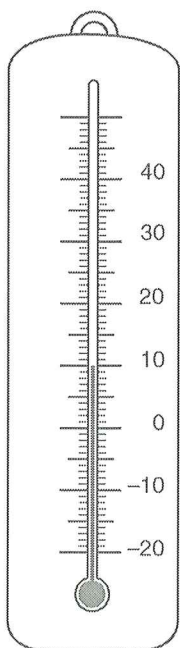


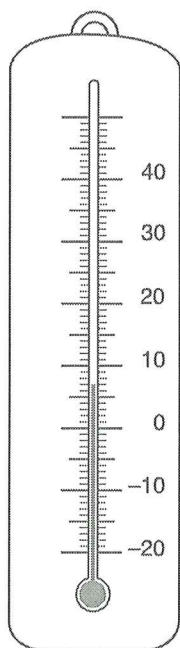
3 Weet jij hoe warm het elke dag was?

maandag




10°C

dinsdag




7°C

woensdag



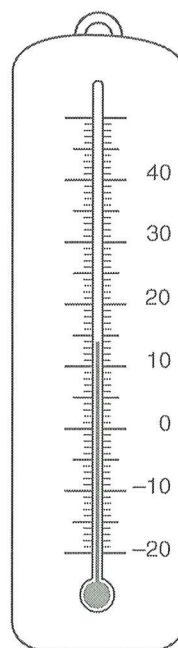
-3°C

donderdag



8°C

vrijdag



14°C

- Op welke dag was het het warmst?
- Op welke dag was het het koudst?
- Op welke dag was het 7 °C?
- Hoeveel verschil in temperatuur was er tussen maandag en donderdag?
- Was het maandag kouder of warmer dan donderdag?

.....**vrijdag**.....

.....**woensdag**.....

.....**dinsdag**.....

.....**2 °C**.....

.....**warmer**.....



- Op welke dag was het 8 °C?
- Hoeveel verschil in temperatuur was er tussen dinsdag en vrijdag?
- Was het vrijdag warmer of kouder dan dinsdag?

.....**donderdag**.....

.....**7 °C**.....

.....**warmer**.....

